









## Jumping Backwards (Subtraction)










Instructions: Find the pattern and then fill in the missing numbers.

1	125	120		110	105	100			85	80
2		33	30		24		18	15	12	9
3	48	44	40	36		28	24			12

4		88	86	_____	82	80	78	76	_____
5		60	54	48	42	36	30	_____	_____
6		290	_____	280	275	270	265	_____	
7		118	116	_____	112	_____	108	106	
8		64	60	_____	52	48	44	40	_____
9		_____	130	_____	90	70	50	30	10
10		9800	9796	9792	9788	_____	_____		



1		75	70	65	60	55	50		40	
2	124			115		109	106	103	100	97
3	432	430	428		424	422		418		414




4		209	_____	205	203	201	_____	197	
5		160	157	154	_____	_____	145	142	
6		81	_____	75	72	69	66	63	_____
7		312	302	292	_____	272	_____	252	
8		_____	44	40	_____	32	28	24	20
9		130	127	_____	121	118	115	_____	
10		142	140	138	136	_____	132	_____	
11		_____	365	345	325	305	185	_____	
12		9030	8027	7024	6021	_____	_____		



## Jumping Backwards (Subtraction)










Instructions: Find the pattern and then fill in the missing numbers.

1	48	45		39	36	33	30		24	
2	144		136	132	128		120	116		108
3		90	85			70	65	60	55	50

4		150	130	_____	_____	70	50	30	10
5		76	_____	68	64	60	56	52	_____
6		_____	443	423	403	383	363	_____	
7		_____	96	93	90	_____	84	81	78
8		84	82	80	_____	76	74	72	_____
9		824	_____	818	815	_____	809		
10		6201	6101	_____	5901	_____	5701		



1	245	240		230	225		215	210		200
2		110	108	106		102	100	98	96	
3	648	645	642		636	633	630			621

4		50	48	_____	44	42	40	38	_____
5		_____	430	425	420	415	410	_____	
6		66	64	62	_____	58	_____	54	52
7		87	84	_____	79	76	73	70	_____
8		60	57	54	51	_____	45	42	_____
9		_____	_____	318	315	312	309	306	
10		175	170	165	_____	155	150	_____	
11		6420	_____	_____	6360	6340	6320		
12		_____	6510	6505	_____	6495	6490		